

Correção ESA 2022



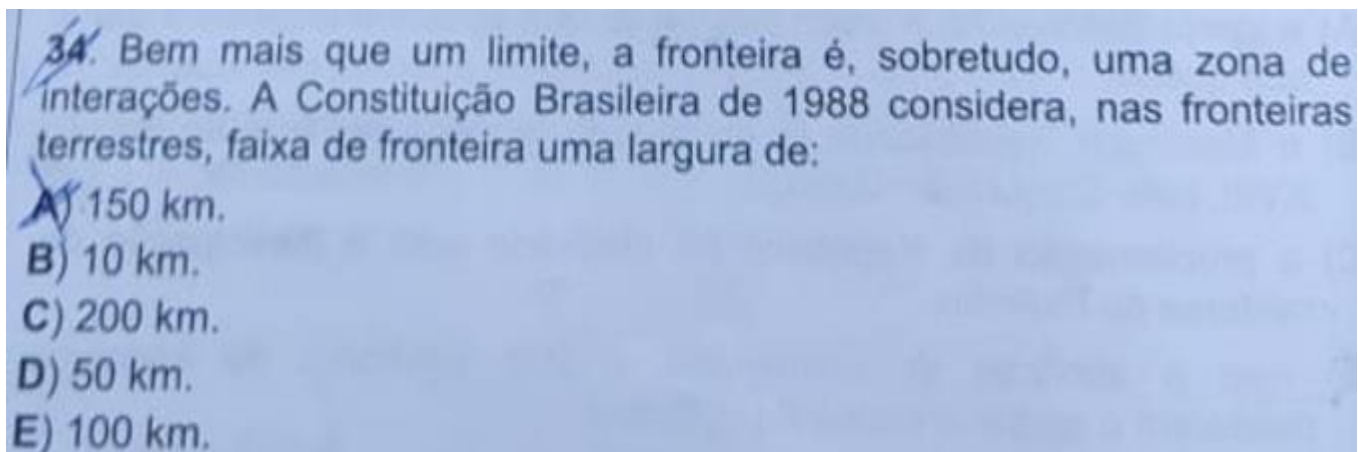
Geografia



Prof. Saulo Teruo Takami

03 DE OUTUBRO DE 2021

QUESTÕES COMENTADAS

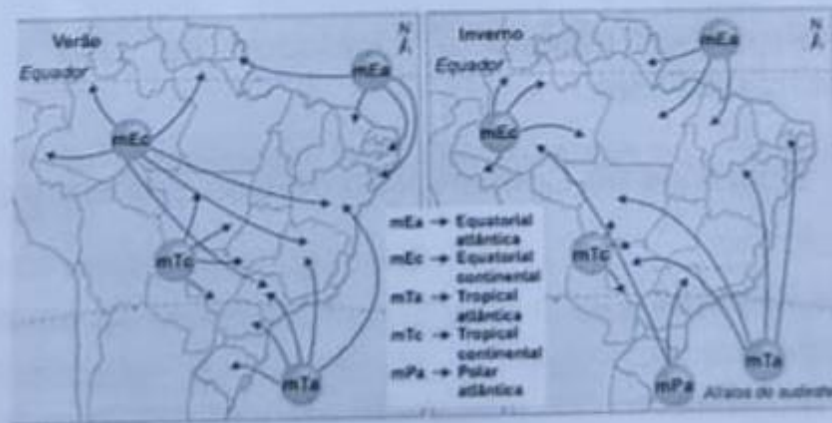
**Comentários**

Por Faixa de Fronteira entende-se “a faixa de até cento e cinquenta quilômetros de largura, ao longo das fronteiras terrestres”, conforme a Constituição Federal, artigo 20 – parágrafo 2º. Com base nesta definição, que recepciona os parâmetros da Lei N° 6.634, de 02/05/1979, o IBGE, para fins geocientíficos e estatísticos, identifica e representa os Municípios brasileiros com área total ou parcialmente localizada na Faixa de Fronteira, que é a faixa interna de 150 km de largura, paralela à linha divisória terrestre do território nacional, agregando as informações existentes (código geográfico e nome do município) com as produzidas na identificação e/ou classificação do município dentro da faixa, tais como: fronteiro, parcial ou totalmente na faixa, referências da sede a linha de fronteira e ao limite da faixa interna.

Gabarito: “a”.



36. O Brasil tem um território de dimensões continentais. Suas terras se estendem pela Zona Climática Intertropical e seu litoral é igualmente extenso. Essas e outras características, imprimiram no clima nacional, forte influência das massas de ar oceânicas. Observe as massas de ar que atuam no território brasileiro e analise as afirmativas abaixo:



- I – As massas de ar equatoriais e tropicais têm sua atuação atenuada no inverno, em função do avanço da Massa Polar Atlântica (mPa).
 II – Em grande parte da Amazônia, o clima é quente e úmido o ano inteiro porque permanecem atuando massas quentes e úmidas – Massa Equatorial Continental (mEc) e Massa Equatorial Atlântica (mEa).

- III – Na área central do país, por consequência do encontro da Massa Tropical Atlântica (mTa) e a Massa Polar Atlântica (mPa), forma-se uma frente fria e há ocorrência de fortes chuvas no inverno.
 IV – No clima subtropical ocorrem verões amenos e invernos rigorosos, com chuvas mal distribuídas ao longo do ano, consequência da ação dominante da Massa Polar Atlântica (mPa).

Estão corretas as afirmativas:

- A) I e IV
 B) II e III
 C) I e III
 D) I e II
 E) III e IV



Comentários

- I. Correto. Ficam mais fracas durante o inverno.
- II. Correto. A mEc apesar de ser continental, ela é úmida, pois se origina sobre a Amazônia.
- III. Incorreto. Não seria na porção central.
- IV. Incorreto. A chuva é bem distribuída ao longo do ano.

Gabarito: “d”.

37. O Sistema Nacional de Unidades de Conservação (SNUC) foi criado pela lei 9.985, de 18 de julho de 2000 e tem como um dos objetivos proteger os recursos naturais necessários à subsistência de populações tradicionais, respeitando e valorizando seu conhecimento, sua cultura, promovendo-as social e economicamente, sendo denominadas Unidades de Proteção Integral e Unidades de Uso Sustentável, conforme a restrição ao uso.

Entende-se por Unidades de Conservação de Uso Sustentável as (os):

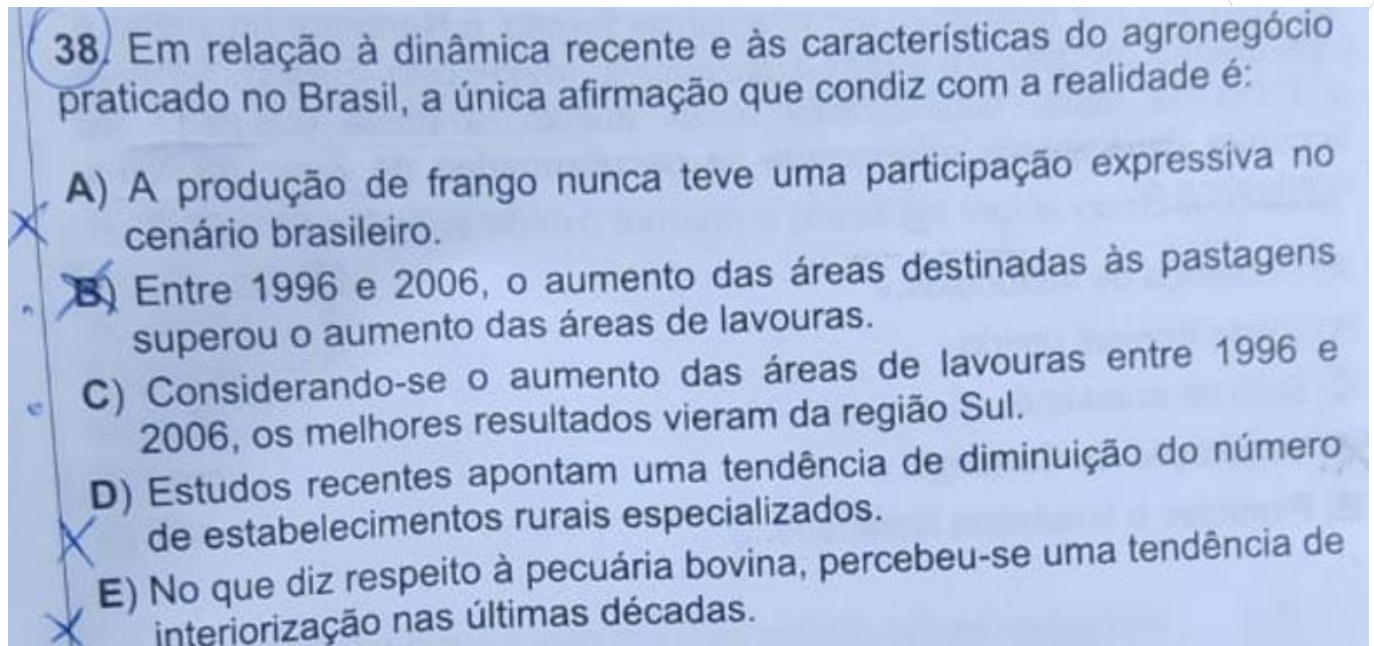
- A) Parques Nacionais.
- B) Monumentos Naturais.
- C) Parques Biológicos.
- D) Estações Ecológicas.
- E) Reservas Extrativistas.

Comentários

A única opção que vai ao encontro de área de conservação, isto é, que pode ser explorada desde que seja reposto, é a reserva extrativista. As demais são áreas de preservação.

Gabarito: “e”.





Comentários

a) Incorreto. Cuidado com a palavra “nunca”.

b) Incorreto. A área ocupada pela lavoura chega a quase 2 bilhões de hectares.

c) Incorreto. O maior aumento foi no Centro-Oeste, cerca de 64%.

d) Incorreto. Como a agropecuária vai se tornando especializada, é mais fácil visualizar um aumento.

e) Correto. Sobretudo em direção à Amazônia.

Gabarito: “e”.



39. Leia o texto da campanha do Ministério da Saúde em favor da amamentação publicado em 2008: "NADA MAIS NATURAL QUE AMAMENTAR. NADA MAIS IMPORTANTE QUE APOIAR. AMAMENTAÇÃO: PARTICIPE E APOIE A MULHER". O uso deste tipo de campanha pelo Governo Federal do Brasil está diretamente relacionado:

- ~~A) à redução da expectativa de vida ao nascer verificada no país no último decênio.~~
- ~~B) à difusão da ideologia de gênero.~~
- C) às altas taxas de mortalidade infantil que ainda persistem no país.
- ~~D) à necessidade de fragilizar a ação de multinacionais que monopolizam o comércio de laticínios.~~
- ~~E) às elevadas taxas de fecundidade verificadas no país nas últimas décadas.~~

Comentários

- a) Incorreto. Houve aumento da expectativa de vida.
- b) Incorreto. Menino e menina são amamentados.
- c) Correto. Mortalidade infantil significa quantas crianças faleceram antes de completar 1 ano.
- d) Incorreto. Leite materno é diferente do leite de vaca, por exemplo.
- e) Incorreto. A taxa de fecundidade vem caindo.

Gabarito: "c".



40. Marcado por diferentes características físicas, o Nordeste brasileiro é comumente dividido em quatro sub-regiões: Meio-norte, Sertão, Agreste e Zona da Mata. Das características abaixo, a única que **não** se encontra diretamente relacionada às peculiaridades da Zona da Mata nordestina é:

- A) Presença de latifúndios. ✓
- B) Clima tropical úmido. ✓
- C) Solo de massapé. ✓
- D) Vegetação de Caatinga. ✓
- E) Planícies e tabuleiros litorâneos. ✓

Comentários

A Caatinga se encontra no Sertão.

Gabarito: “d”.

GABARITO

34. a

36. b

37. e

38. e

39. c

40. d

